

**Тема: Измерване на величини**  
**Образователно направление "Математика"**  
**Предучилищно образование**


**1. 1. Кое е шишето, в което има най-малко вода?**

- А) Първото
- Б) Второто
- В) Третото




**2. 2. Кое е най-ниското дърво?**

- А) Първото
- Б) Второто
- В) Третото



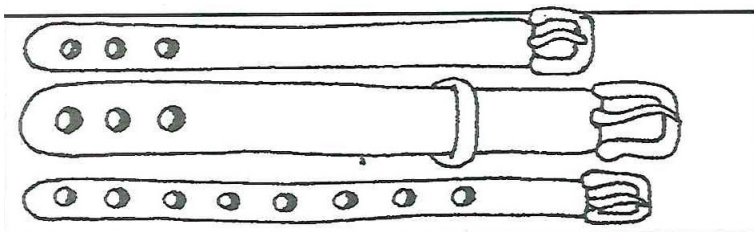
**3. 3. Кое е най-бързото животно?**

- А) Охлюв
- Б) Заек
- В) Слон



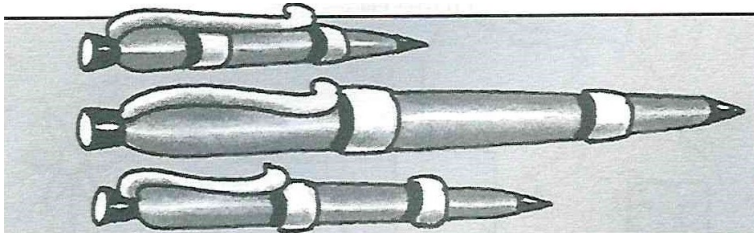
**4. 4. Кое е най-широкото коланче?**

- А) Първото
- Б) Второто
- В) Третото



**5. 5. Коя е най-дългата химикалка?**

- А) Първата
- Б) Втората
- В) Третата



**Край на теста.**

## Верни отговори

### Вариант 1

<b>1</b>	<b>2</b>	<b>3</b>	<b>4</b>	<b>5</b>
В	Б	Б	Б	Б